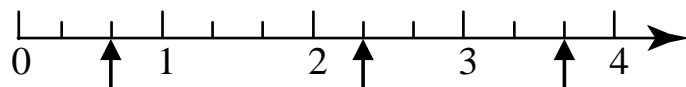


(1) 在()裡填上適當的分數。



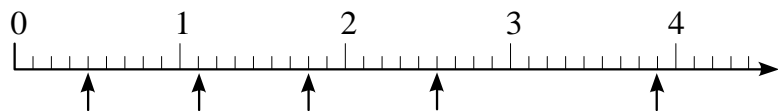
() ()

(2) 在()裡填上適當的分數。



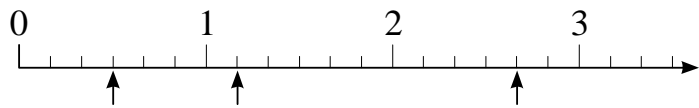
() () ()

(3) 將下面數線中，箭頭所指的刻度用分數表示。



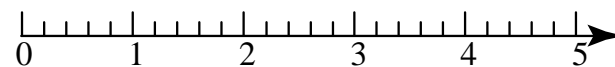
() () () () ()

(4) 箭頭所指的刻度各是多少？用分數表示。




() () ()

(5) 在下面的數線上，分別標出 $\frac{1}{5}$ 、 $3\frac{1}{5}$ 、 $\frac{24}{5}$ 的位置。



(6) 在方格紙上用尺畫出一條以 $\frac{1}{6}$ 為單位的分數數線。



(7) 用尺畫出一條以 $\frac{1}{3}$ 為單位的分數數線。

(8) 用尺畫出一條以 $\frac{1}{7}$ 為單位的分數數線，並標出 $\frac{4}{7}$ 、 $\frac{12}{7}$ 、 $2\frac{3}{7}$ 的位置。